

BREVET BLANC 2 – CORRECTION + BAREME

MATHEMATIQUES

DUREE DE L'EPREUVE : 2h00

Le candidat répondra sur une copie.

Le candidat traitera les exercices dans l'ordre souhaité.

L'usage de la calculatrice est autorisé.

Exercices	36 points
Qualité de rédaction, orthographe, soin et présentation	4 points

Mathématiques à Bailleul

Exercice 1 (sur 3 points):

Monsieur Verdier tire au hasard une boule dans une urne contenant des boules de même taille, de même poids, indiscernables au toucher, sur lesquelles sont écrites les lettres suivantes :

B	A	I	L	L	E	U	L
---	---	---	---	---	---	---	---

1- Quelle est la probabilité qu'il tire une boule sur laquelle est écrite la lettre A ?

La probabilité qu'il tire une boule sur laquelle est écrite la lettre A est $\frac{1}{8}$. 0,5 point

2- Quelle est la probabilité qu'il tire une boule sur laquelle est écrite la lettre L ?

La probabilité qu'il tire une boule sur laquelle est écrite la lettre L est $\frac{3}{8}$. 0,5 point

3- Quelle est la probabilité qu'il tire une boule sur laquelle est écrite la lettre O ?

La probabilité qu'il tire une boule sur laquelle est écrite la lettre O est 0. 0,5 point

4- Monsieur Verdier pense qu'il a plus de chance de tirer une boule sur laquelle est écrite une voyelle que tirer une boule sur laquelle est écrite une consonne.

A-t-il raison ? Justifier la réponse.

La probabilité qu'il tire une boule sur laquelle est écrite une voyelle est $\frac{4}{8} = \frac{1}{2} = 0,5$. 0,5 point

La probabilité qu'il tire une boule sur laquelle est écrite une consonne est $\frac{4}{8} = \frac{1}{2} = 0,5$. 0,5 point

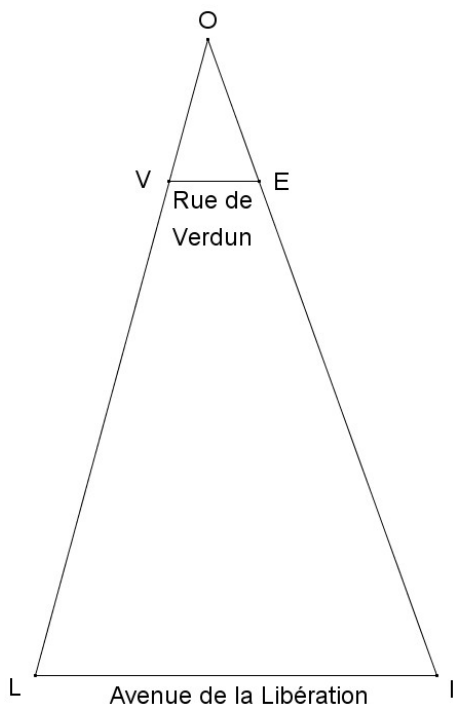
Monsieur Verdier n'a pas raison : il a autant de chance de tirer une boule sur laquelle est écrite une voyelle que tirer une boule sur laquelle est écrite une consonne. 0,5 point



Exercice 2 (sur 3 points):

La rue de Verdun (VE) est-elle parallèle à l'avenue de la Libération (LI) ? Justifier la réponse.

On donne : $OV = 200$ m ; $OL = 860$ m ; $OE = 205$ m et $OI = 850$ m.



On sait que :

→ les droites (OL) et (OI) sont sécantes en O

→ d'une part $\frac{OV}{OL} = \frac{200}{860} \approx 0,2325581395$ 0,5 point

d'autre part $\frac{OE}{OI} = \frac{205}{850} \approx 0,2411764706$ 0,5 point

Je constate que $\frac{OV}{OL} \neq \frac{OE}{OI}$.0,5 point

On applique : la conséquence du théorème de Thalès 0,5 point

On en conclut que : les droites (VE) et (LI) ne sont pas parallèles. 0,5 point

La rue de Verdun (VE) n'est pas parallèle à l'avenue de la Libération (LI). 0,5 point

Exercice 3 (sur 11 points):

Le cinéma « Le Flandria » souhaite attirer la clientèle pendant les vacances d'été.

<i>Tarif Normal :</i> 5 € la place	<i>Tarif Vacances :</i> 12 € la carte « Vacances » puis 3 € la place
---------------------------------------	---

1- a- Nicolas souhaite aller voir 3 films pendant les vacances.

Quel tarif est le plus intéressant pour lui ? Justifier la réponse.

Avec le tarif Normal, il paie $3 \times 5 \text{ €} = 15 \text{ €}$.

Avec le tarif Vacances, il paie $12 \text{ €} + 3 \times 3 \text{ €} = 21 \text{ €}$.0,5 point

$15 \text{ €} < 21 \text{ €}$

Le tarif le plus intéressant pour Nicolas est le tarif Normal. 0,5 point



1- b- La sœur de Nicolas souhaite aller voir 8 films pendant les vacances.

Quel tarif est le plus intéressant pour elle ? Justifier la réponse.

Avec le tarif Normal, elle paie $8 \times 5 \text{ €} = 40 \text{ €}$

Avec le tarif Vacances, il paie $12 \text{ €} + 8 \times 3 \text{ €} = 36 \text{ €}$. 0,5 point

$40 \text{ €} > 36 \text{ €}$

Le tarif le plus intéressant pour la sœur de Nicolas est le tarif Vacances. 0,5 point

Madame Gallet, Madame Haguët et Madame Vieren ne savent pas encore combien de films elles souhaitent voir pendant les vacances. Elles se posent la question : « A partir de combien de films le tarif Vacances devient-il plus intéressant ? » et choisissent chacune une méthode différente pour y répondre.

2- La méthode de Madame Gallet...

Madame Gallet choisit d'utiliser un tableur.

	A	B	C
1	Nombre de films	Prix (en €) avec le tarif Normal	Prix (en €) avec le tarif Vacances
2	1		

2- a- Quelle formule doit-elle entrer dans la cellule B2?

Dans la cellule B2, elle doit entrer la formule suivante : « = A2 * 5 ». 0,5 point (=)+0,5 point(A2)+0,5 point(*)

2- b- Quelle formule doit-elle entrer dans la cellule C2?

Dans la cellule C2, elle doit entrer la formule suivante : « = 12 + A2 * 3 ». 0,5 point(+)

2- c- Que doit alors faire Madame Gallet pour pouvoir répondre à la question ?

Pour pouvoir répondre à la question, elle doit étirer (ou étendre ou généraliser) les « formules » des cellules A2 ; B2 et C2. 1 point

3- La méthode de Madame Haguët...

Madame Haguët choisit d'utiliser un graphique.

Elle a tracé les droites (D) et (D') ci-contre.

3- a- Quel tarif représente la droite (D) ?

La droite (D) représente le tarif Vacances. 1 point

3- b- Quel tarif représente la droite (D') ?

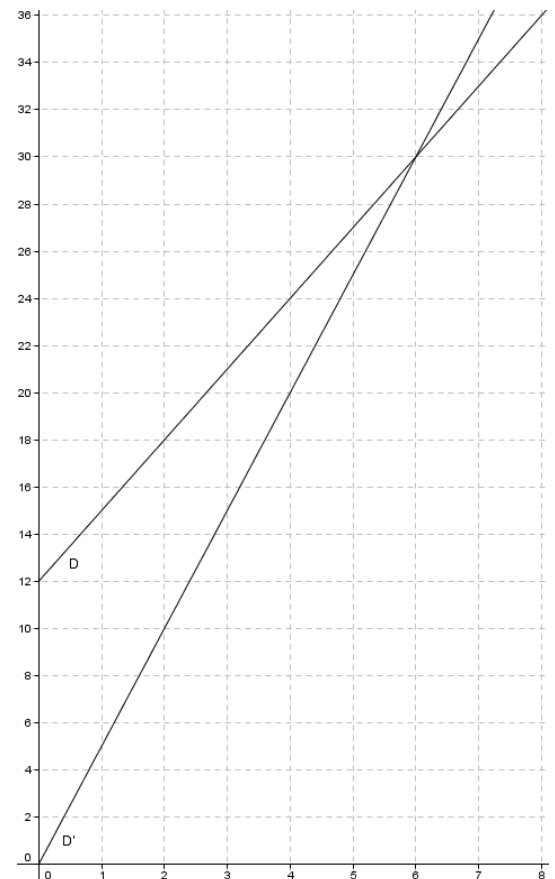
La droite (D') représente le tarif Normal. 1 point

3- c- Recopier et compléter la réponse de Madame Haguët :

« A partir de ... films le tarif Vacances devient plus intéressant. ».

Madame Haguët va répondre : « A partir de 6 films, le tarif Vacances devient plus intéressant. ».

(La réponse « A partir de 7 films , ... » est acceptée) 1 point



4- La méthode de Madame Vieren...

Madame Vieren choisit d'utiliser une équation.

4- a- Résoudre l'équation $5x = 12 + 3x$.

$$\begin{aligned}5x &= 12 + 3x \\5x - 3x &= 12 + 3x - 3x \\2x &= 12 \\ \frac{2x}{2} &= \frac{12}{2} \\ x &= 6\end{aligned}$$

1,5 points

Cette équation a une seule solution qui est 6.

4- b- Recopier et compléter la réponse de Madame Vieren : « A partir de ... films le tarif Vacances devient plus intéressant. ».

Madame Vieren va répondre : « A partir de 6 films, le tarif Vacances devient plus intéressant. ».

(La réponse « A partir de 7 films , ... » est acceptée) 1 point



5- Comparaison des méthodes...

Madame Haguet et Madame Vieren trouvent-elles la même réponse ?

Madame Haguet et Madame Vieren trouvent la même réponse : « A partir de 6 films, le tarif Vacances devient plus intéressant. ». 0,5 point

Exercice 4 (sur 3 points):

La librairie « La Bailleuloise » propose des offres sur les annales de brevet.

<p>Annabrevet Sujets et corrigés Maths 2013 Editeur : Hatier Prix : 5,69 € Offre : - 15% Prix réduit : ?</p>		<p>Annabrevet Sujets et corrigés Français 2013 Editeur : Hatier Prix : ? Offre : - 20% Prix réduit : 5,2 €</p>	
--	---	--	---

1- Monsieur Pesin a 5€ en poche. Peut-il s'acheter l'annabrevet de Mathématiques ? Justifier la réponse.

Méthode 1 (avec les pourcentages, 6^e) :

On calcule d'abord la réduction :

$$\text{Réduction} = 15 \text{ de } 5,69 \text{ €}$$

$$\text{Réduction} = \frac{15}{100} \times 5,69 \text{ €} \quad 0,5 \text{ point}$$

$$\text{Réduction} = 0,8535.$$

On calcule ensuite le prix réduit :

$$\text{Prix réduit} = \text{prix de départ} - \text{réduction} = 5,69 \text{ €} - 0,8535 \text{ €} = 4,8365 \text{ €} \quad 0,5 \text{ point}$$

Monsieur Pesin peut s'acheter l'annabrevet de Mathématiques car $4,8365 \text{ €} < 5 \text{ €}$. $0,5 \text{ point}$

Méthode 2 (avec les pourcentages d'augmentation et de diminution, 3^e) :

	-15,00%	
Prix de départ = 5,69 €	----->	Prix réduit = ? $5,69 * 0,85 = 4,8365$
	* (1-15 over 100) = (1-0,15) = 0,85	

(0,5 point (*0,85) + 0,5 point (5,69€))

Monsieur Pesin peut s'acheter l'annabrevet de Mathématiques car $4,8365 \text{ €} < 5 \text{ €}$. (0,5 point)

2- Quel était le prix de départ de l'annabrevet de Français ? Justifier la réponse.

Méthode 1 (avec les pourcentages, 6^e) :

Soit x le prix de départ de l'annabrevet de Français.

On calcule d'abord la réduction (en fonction de x) :

Réduction = 20 pourcent de x

$$\text{Réduction} = \frac{20}{100} \times x \quad 0,5 \text{ point}$$

$$\text{Réduction} = 0,20x.$$

On calcule ensuite le prix réduit (en fonction de x) :

Prix réduit = prix de départ – réduction

$$\text{Prix réduit} = x - 0,20x$$

$$\text{Prix réduit} = 1x - 0,20x \quad 0,5 \text{ point}$$

$$\text{Prix réduit} = 0,80x.$$

On calcule enfin le prix de départ :

$$\text{Prix réduit} = 5,2$$

$$0,80x = 5,2$$

$$\frac{0,80x}{0,80} = \frac{5,2}{0,80} \quad 0,5 \text{ point}$$

$$x = 6,5$$

Le prix de départ de l'annabrevet de Français est 6,5 €.

Méthode 2 (avec les pourcentages d'augmentation et de diminution, 3^e) :

	-20,00%	
Prix de départ = 75,2 € / 0,80 = 6,5 €	----->	Prix réduit = 5,2 €
	* (1-20 over 100) = (1-0,20) = 0,80	

(0,5 point (*0,80) + 0,5 point (/ 0,80) + 0,5 point (6,5 €))

Le prix de départ de l'annabrevet de Français est 6,5 €.

Exercice 5 (sur 4,5 points):

Un concours inter-villes oppose Steenwerck, Bailleul et Merris.

1- La première question du concours est : « Développer l'expression $S=(x+5)^2$ ».

L'équipe de Steenwerck répond : « $S=x^2+5^2$ ».

A-t-elle raison ? Justifier la réponse.

$$\begin{aligned} S &= (x+5)^2 \\ S &= x^2 + 2 \times x \times 5 + 5^2 \quad \text{1 point} \\ S &= x^2 + 10x + 25 \end{aligned}$$

L'équipe de Steenwerck n'a pas raison. 0,5 point

2- La deuxième question du concours est : « Développer l'expression $M=(2x-7)^2$ ».

L'équipe de Merris répond : « $M=2x^2-28x+49$ ».

A-t-elle raison ? Justifier la réponse.

$$\begin{aligned} M &= (2x-7)^2 \\ M &= (2x)^2 - 2 \times 2x \times 7 + 7^2 \quad \text{1 point} \\ M &= 4x^2 - 28x + 49 \end{aligned}$$

L'équipe de Merris n'a pas raison. 0,5 point

3- La troisième question du concours est : « Développer l'expression $B=(3x+4)(3x-4)$ ».

Que doit répondre l'équipe de Bailleul pour gagner le concours ?

$$\begin{aligned} B &= (3x+4)(3x-4) \\ B &= (3x)^2 - 4^2 \quad \text{1,5 point} \\ B &= 9x^2 - 16 \end{aligned}$$

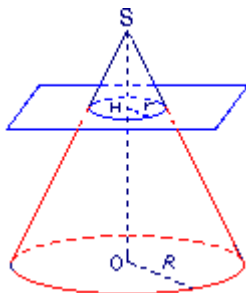
L'équipe de Bailleul doit répondre $B=9x^2-16$ pour gagner le concours.

Exercice 6 (sur 4,5 points) :

Une troupe de carnaval
coupe un cône parallèlement à sa base (document 1)
pour stocker des confettis (document 2) sur leur char.



Document 1 : le cône sectionné :

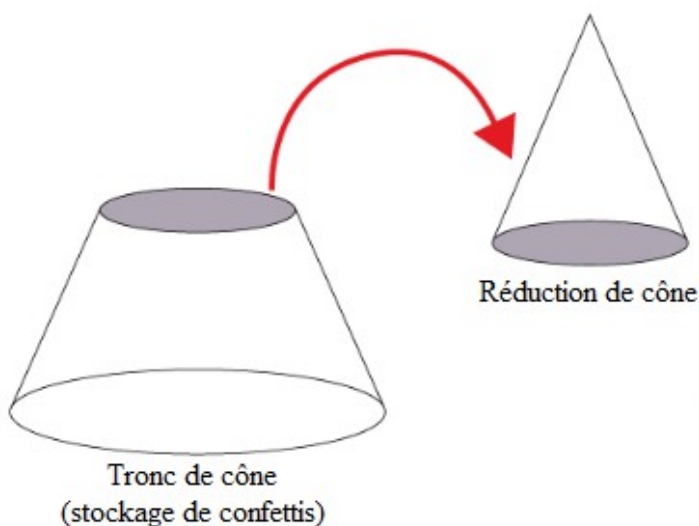


On donne : $SO = 60$ cm ; $R = 54$ cm et $SH = 20$ cm.

Ils obtiennent :

→ une réduction du cône

→ un tronc de cône



On rappelle que :

→ Le volume d'un cône est égal à :

$$\frac{1}{3} \times \text{aire de la base} \times \text{hauteur}$$

→ Le volume du tronc de cône est égal à :

Volume du cône – Volume de la réduction du cône.

→ $1\,000 \text{ cm}^3 = 1 \text{ L}$.

Document 2 : les confettis à stocker :

Confettis éco

Description :

- sac de 10 kg
- 15 Litres
- multicolore
- confettis éco
- fabrication française

Disponibilité : En stock

Prix : 13,95 €



Les carnavaloux pourront-ils stocker 10 sacs de confettis dans leur tronc de cône ?

Si le travail n'est pas terminé, laisser tout de même une trace de la recherche.

Elle sera prise en compte dans la notation.

Le volume d'un sac de confettis est 15 L.

Le volume de 10 sacs de confettis est donc $10 * 15 \text{ L} = 150 \text{ L}$.

On doit donc calculer le volume du tronc de cône (où les carnavaloux vont stocker les confettis) pour savoir s'il est inférieur ou supérieur à 150 L.

Etape 1 : on calcule le volume du grand cône :

$$\text{Volume du grand cône} = \frac{\text{aire de la base} \times \text{hauteur}}{3}$$

$$\text{Avec : aire de la base} = \pi \times 54^2 = 2916 \times \pi$$
$$\text{hauteur} = 60$$

$$\text{Volume du grand cône} = \frac{2916 \times \pi \times 60}{3}$$

0,5 point + 0,5 point

$$\text{Volume du grand cône} = 58320 \pi (\text{valeur exacte en fonction de } \pi)$$

$$\text{Volume du grand cône} \approx 183217,6836 (\text{valeur arrondie affichée par la calculatrice})$$

Etape 2 : on calcule le volume de la réduction de cône :

Méthode 1 (avec l'effet d'un agrandissement-réduction sur les longueurs, 4^e) :

Pour calculer le volume du petit cône, on a besoin de connaître le rayon du petit cône.

Le petit cône est une réduction du grand cône.

$$\text{Le coefficient de réduction est } \frac{SH}{SO} = \frac{20}{60} = \frac{20 \times 1}{20 \times 3} = \frac{1}{3} \quad . \text{ 0,5 point}$$

Cela signifie que pour « passer » du grand cône au petit cône, toutes les longueurs sont multipliées par $\frac{1}{3}$.

$$\text{On en déduit que : } \text{rayon du petit cône} = \frac{1}{3} \times \text{rayon du grand cône} = \frac{1}{3} \times 54 = 18 \quad .$$

On peut alors calculer le volume du petit cône :

$$\text{Volume du petit cône} = \frac{\text{aire de la base} \times \text{hauteur}}{3}$$

$$\text{Avec : aire de la base} = \pi \times 18^2 = 324 \times \pi$$
$$\text{hauteur} = 20$$

$$\text{Volume du petit cône} = \frac{324 \times \pi \times 20}{3}$$

0,5 point + 0,5 point

$$\text{Volume du petit cône} = 2160 \pi (\text{valeur exacte en fonction de } \pi)$$

$$\text{Volume du petit cône} \approx 6785,840132 (\text{valeur arrondie affichée par la calculatrice})$$

Méthode 2 (avec l'effet d'un agrandissement-réduction sur les volumes, 3^e) :

Le petit cône est une réduction du grand cône.

$$\text{Le coefficient de réduction est } \frac{SH}{SO} = \frac{20}{60} = \frac{20 \times 1}{20 \times 3} = \frac{1}{3} \quad . \text{ (0,5 point)}$$

Cela signifie que pour « passer » du grand cône au petit cône, toutes les longueurs sont multipliées par $\frac{1}{3}$,

toutes les aires sont multipliées par $(\frac{1}{3})^2 = \frac{1^2}{3^2} = \frac{1}{9}$, et tous les volumes sont multipliés par $(\frac{1}{3})^3 = \frac{1^3}{3^3} = \frac{1}{27}$.

(0,5 point)

$$\text{Volume du petit cône} = \frac{1}{27} \times \text{Volume du grand cône}$$

On en déduit que:

$$\text{Volume du petit cône} = \frac{1}{27} \times 58320 \pi$$

(0,5 point)

$$\text{Volume du petit cône} = 2160 \pi (\text{valeur exacte en fonction de } \pi)$$

$$\text{Volume du petit cône} \approx 6785,840132 (\text{valeur arrondie affichée par la calculatrice})$$

Etape 3 : on calcule le volume du tronc de cône :

$$\text{Volume du tronc de cône} = \text{Volume du cône} - \text{Volume de la réduction du cône}$$

$$\text{Volume du tronc de cône} = 58320 \pi - 2160 \pi$$

$$\text{Volume du tronc de cône} = 56160 \pi (\text{valeur exacte en fonction de } \pi)$$

0,5 point + 0,5 point

$$\text{Volume du tronc de cône} = 176431,8434 (\text{valeur arrondie affichée par la calculatrice})$$

Le volume du tronc de cône est environ $176\,431,8434 \text{ cm}^3$ c'est à dire environ 176,4318434 L.

Etape 4 : on répond à la question :

150 L < 176,4318434 L **0,5 point**

Les carnavaloux pourront stocker 10 sacs de confettis dans leur tronc de cône. **0,5 point**

Exercice 7 (sur 7 points) :

Monsieur Boutoille et Madame Ternoy ont décidé de mesurer la hauteur du collège.
Les murs du collège sont bien perpendiculaires au sol.

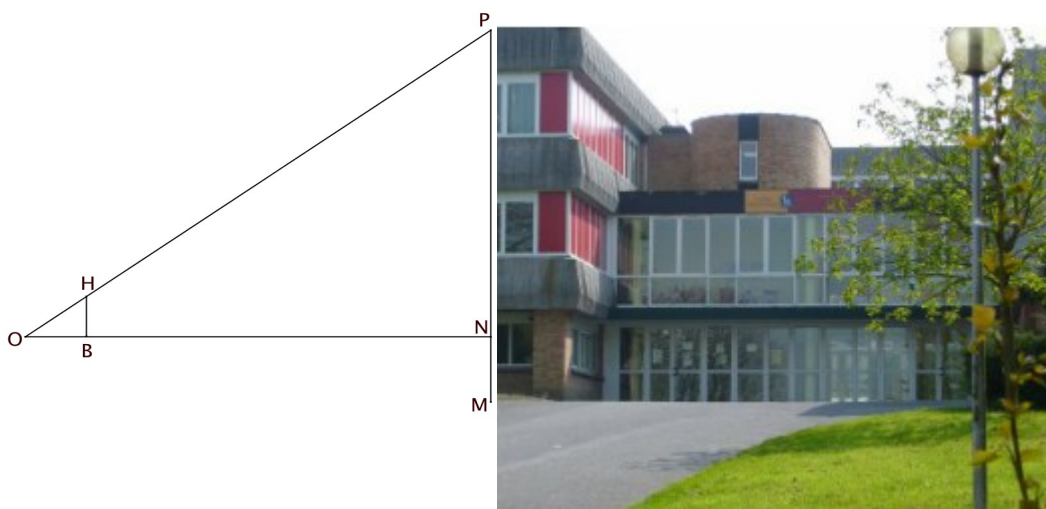
1- La méthode de Monsieur Boutoille...

Monsieur Boutoille lève le bras droit horizontalement devant lui de manière à placer le Bas B d'un bâton de 15 cm à hauteur de son Œil O qui est à 1,75 m du sol puis regarde le Haut H du bâton. Il recule dans cette position jusqu'à ce que le Haut H du bâton coïncide avec le haut P du collège c'est à dire jusqu'à ce que son Œil O, le Haut H du bâton et le haut P du collège soient alignés.

La figure ci-dessous n'est pas à l'échelle.

On a : OB = 40 cm ; ON = 22 m ; BH = 15 cm et MN = 1,75 m.

Aider Monsieur Boutoille à calculer la hauteur MP du collège.



On veut calculer la hauteur MP du collège : $MP = MN + NP$
 $MP = 1,75 m + NP$

On doit donc calculer la longueur NP.

On sait que :

→ les droites (OP) et (ON) sont sécantes en O **0,5 point**

→ les droites (BH) et (NP) sont parallèles entre elles **0,5 point**

On applique : le théorème de Thalès **0,5 point**

$$\frac{OH}{OP} = \frac{OB}{ON} = \frac{HB}{PN}$$

$$\frac{OH}{OP} = \frac{0,40}{22} = \frac{0,15}{PN}$$

On en conclut que :

$$PN = \frac{22 \times 0,15}{0,40}$$

$$PN = 8,25$$

0,5 point (égalités) + 0,5 point (remplacer) + 0,5 point (conversions cm en m) + 0,5 point (PN)

On peut maintenant calculer la hauteur MP du collège : $MP = 1,75 m + 8,25 m$
 $MP = 10 m$ **0,5 point**

La hauteur du collège est 10 m.

2- La méthode de Madame Ternoy...

Madame Ternoy s'installe à 22,5 m du collège et place un instrument de mesure d'angles devant son Œil O qui est à 1,75 m du sol, elle mesure l'angle \widehat{NOP} qui fait 20° .

La figure ci-dessous n'est pas à l'échelle.

On a : $ON = 22,5 \text{ m}$; $\widehat{NOP} = 20^\circ$ et $MN = 1,75 \text{ m}$.

Aider Madame Ternoy à calculer la hauteur MP du collège.



On veut calculer la hauteur MP du collège : $MP = MN + NP$
 $MP = 1,75 \text{ m} + NP$
 On doit donc calculer la longueur NP.

Dans le triangle OPN rectangle en N (car les murs du collège sont bien perpendiculaires au sol), 0,5 point

$$\tan \widehat{PON} = \frac{\text{côté opposé à } \widehat{PON}}{\text{côté adjacent à } \widehat{PON}}$$

$$\tan \widehat{PON} = \frac{PN}{ON}$$

$$\tan 20^\circ = \frac{PN}{22,5}$$

$$PN = 22,5 \times \tan 20^\circ$$

$$PN \approx 8,189330271 \text{ (valeur arrondie affichée par la calculatrice)}$$

$$PN \approx 8,2 \text{ (valeur arrondie au dixième près)}$$

0,5 point (formule) + 0,5 point (remplacer) + 0,5 point (PN)

On peut maintenant calculer la hauteur MP du collège : $MP \approx 1,75 \text{ m} + 8,2 \text{ m}$
 $MP \approx 9,95 \text{ m}$. 0,5 point

La hauteur du collège est environ 9,95 m.

3- Comparaison des deux méthodes...

Monsieur Boutoille et Madame Ternoy trouvent-ils la même hauteur ?

Monsieur Boutoille et Madame Ternoy trouvent presque la même hauteur. 0,5 point

